

# RECENSEADOR

## LEIA ATENTAMENTE AS INSTRUÇÕES ABAIXO.

01 - Você recebeu do fiscal o seguinte material:

a) este caderno, com os enunciados das 50 questões objetivas, sem repetição ou falha, com a seguinte distribuição:

| LÍNGUA PORTUGUESA |        | MATEMÁTICA |        | CONHECIMENTOS GERAIS |        | CONHECIMENTOS TÉCNICOS |        |          |        |
|-------------------|--------|------------|--------|----------------------|--------|------------------------|--------|----------|--------|
| Questões          | Pontos | Questões   | Pontos | Questões             | Pontos | Questões               | Pontos | Questões | Pontos |
| 1 a 5             | 1,0    | 11 a 15    | 1,5    | 21 a 25              | 1,0    | 31 a 35                | 1,0    | 41 a 45  | 3,0    |
| 6 a 10            | 2,0    | 16 a 20    | 2,5    | 26 a 30              | 2,0    | 36 a 40                | 2,0    | 46 a 50  | 4,0    |

b) 1 **CARTÃO-RESPOSTA** destinado às respostas às questões objetivas formuladas nas provas.

02 - Verifique se este material está em ordem e se o seu nome e número de inscrição conferem com os que aparecem no **CARTÃO-RESPOSTA**. Caso contrário, notifique **IMEDIATAMENTE** o fiscal.

03 - Após a conferência, o candidato deverá assinar no espaço próprio do **CARTÃO-RESPOSTA**, preferivelmente a caneta esferográfica de tinta na cor preta. No **CARTÃO-RESPOSTA**, o candidato deverá assinalar também, no espaço próprio, a cor correspondente às suas provas: ① Branca, ② Amarela, ③ Verde ou ④ Azul. **Se assinalar uma cor que não corresponda ao de suas provas ou deixar de assinalá-lo, será eliminado.**

04 - No **CARTÃO-RESPOSTA**, a marcação das letras correspondentes às respostas certas deve ser feita cobrindo a letra e preenchendo todo o espaço compreendido pelos círculos, a **caneta esferográfica transparente de preferência de tinta na cor preta**, de forma contínua e densa. A LEITORA ÓTICA é sensível a marcas escuras; portanto, preencha os campos de marcação completamente, sem deixar claros.

Exemplo:    (A)       ●       (C)       (D)

05 - Tenha muito cuidado com o **CARTÃO-RESPOSTA**, para não o **DOBRAR, AMASSAR ou MANCHAR**. O **CARTÃO-RESPOSTA SOMENTE** poderá ser substituído caso esteja danificado em suas margens superior ou inferior - **BARRA DE RECONHECIMENTO PARA LEITURA ÓTICA**.

06 - Para cada uma das questões objetivas, são apresentadas 4 alternativas classificadas com as letras (A), (B), (C) e (D); só uma responde adequadamente ao quesito proposto. Você só deve assinalar **UMA RESPOSTA**: a marcação em mais de uma alternativa anula a questão, **MESMO QUE UMA DAS RESPOSTAS ESTEJA CORRETA**.

07 - As questões objetivas são identificadas pelo número que se situa acima de seu enunciado.

08 - **SERÁ ELIMINADO** do Processo Seletivo Simplificado o candidato que:  
a) se utilizar, durante a realização das provas, de máquinas e/ou relógios de calcular, bem como de rádios gravadores, *headphones*, telefones celulares ou fontes de consulta de qualquer espécie;  
b) se ausentar da sala em que se realizam as provas levando consigo o Caderno de Questões e/ou o **CARTÃO-RESPOSTA**;  
c) se recusar a entregar o Caderno de Questões e/ou o **CARTÃO-RESPOSTA** quando terminar o tempo estabelecido.

09 - Reserve os 30 (trinta) minutos finais para marcar seu **CARTÃO-RESPOSTA**. Os rascunhos e as marcações assinaladas no Caderno de Questões **NÃO SERÃO LEVADOS EM CONTA**.

**Obs.** O candidato só poderá se ausentar do recinto das provas após **1 (uma) hora** contada a partir do efetivo início das mesmas. Por motivo de segurança, ao candidato **somente** será permitido levar seu **CADERNO DE QUESTÕES** faltando **1 (uma) hora** ou menos para o término das provas.

10 - Quando terminar, entregue ao fiscal **O CADERNO DE QUESTÕES E O CARTÃO-RESPOSTA**, **ressalvado o disposto na observação do item 9**, e **ASSINE A LISTA DE PRESENÇA**.

11 - **O TEMPO DISPONÍVEL PARA ESTAS PROVAS DE QUESTÕES OBJETIVAS É DE 4 (QUATRO) HORAS**, findo o qual o candidato deverá, **obrigatoriamente**, entregar o **CARTÃO-RESPOSTA**.

12 - As questões e os gabaritos das Provas Objetivas serão divulgados no primeiro dia útil após a realização das mesmas, no endereço eletrônico da **FUNDAÇÃO CESGRANRIO** (<http://www.cesgranrio.org.br>).

RASCUNHO

## LÍNGUA PORTUGUESA

### Banhos de mar

Meu pai acreditava que todos os anos se devia fazer uma cura de banhos de mar. E nunca fui tão feliz quanto naquelas temporadas de banhos em Olinda, Recife.

Meu pai também acreditava que o banho de mar salutar era o tomado antes de o sol nascer. Como explicar o que eu sentia de presente inaudito em sair de casa de madrugada e pegar o bonde vazio que nos levaria para Olinda ainda na escuridão?

De noite eu ia dormir, mas o coração se mantinha acordado, em expectativa. E de puro alvoroço, eu acordava às quatro e pouco da madrugada e despertava o resto da família. Vestíamos depressa e saíamos em jejum. Porque meu pai acreditava que assim devia ser: em jejum.

Saíamos por uma rua toda escura, recebendo a brisa da pré-madrugada. E esperávamos o bonde. Até que lá de longe ouvíamos o seu barulho se aproximando. Eu me sentava bem na ponta do banco: e minha felicidade começava. Atravessar a cidade escura me dava algo que jamais tive de novo. No bonde mesmo o tempo começava a clarear e uma luz trêmula de sol escondido nos banhava e banhava o mundo.

Eu olhava tudo: as poucas pessoas na rua, a passagem pelo campo com os bichos-de-pé: “Olhe um porco de verdade!” gritei uma vez, e a frase de deslumbramento ficou sendo uma das brincadeiras de minha família, que de vez em quando me dizia rindo: “Olhe um porco de verdade.”

Passávamos por cavalos belos que esperavam de pé pelo amanhecer.

Eu não sei da infância alheia. Mas essa viagem diária me tornava uma criança completa de alegria. E me serviu como promessa de felicidade para o futuro. Minha capacidade de ser feliz se revelava. Eu me agarrava, dentro de uma infância muito infeliz, a essa ilha encantada que era a viagem diária.

No bonde mesmo começava a amanhecer. Meu coração batia forte ao nos aproximarmos de Olinda. Finalmente saltávamos e íamos andando para as cabanas pisando em terreno já de areia misturada com plantas. Mudávamos de roupa nas cabanas. E nunca um corpo desabrochou como o meu quando eu saía da cabana e sabia o que me esperava.

O mar de Olinda era muito perigoso. Davam-se alguns passos em um fundo raso e de repente caía-se num fundo de dois metros, calculo.

O cheiro do mar me invadia e me embriagava. As algas boiavam. Oh, bem sei que não estou transmitin-

do o que significavam como vida pura esses banhos em jejum, com o sol se levantando pálido ainda no horizonte. Bem sei que estou tão emocionada que não consigo escrever. O mar de Olinda era muito iodado e salgado. E eu fazia o que no futuro sempre iria fazer: com as mãos em concha, eu as mergulhava nas águas, e trazia um pouco do mar até minha boca: eu bebia diariamente o mar, de tal modo queria me unir a ele.

Não demorávamos muito. O sol já se levantara todo, e meu pai tinha que trabalhar cedo. Mudávamos de roupa, e a roupa ficava impregnada de sal. Meus cabelos salgados me colavam na cabeça.

LISPECTOR, Clarice. **Aprendendo a Viver**. Rocco, 2004.

#### 1

As viagens a Olinda para o banho de mar eram, para a menina,

- (A) simplesmente rotineiras.
- (B) monótonas, apesar de divertidas.
- (C) bastante cansativas, mas agradáveis.
- (D) extremamente prazerosas.

#### 2

A caminho da praia a família passava por uma área que lembrava um ambiente rural, como se constata pelos parágrafos

- (A) quinto e sexto.
- (B) quarto e quinto.
- (C) terceiro e quarto.
- (D) segundo e terceiro.

#### 3

De acordo com o texto, para o pai, a temporada de banhos de mar **NÃO** era um(a)

- (A) prática saudável e que deveria seguir um certo ritual.
- (B) período destinado a cuidar da saúde da família.
- (C) hábito salutar a ser repetido anualmente.
- (D) pretexto para um passeio com a família.

#### 4

“Minha capacidade de ser feliz se revelava.”(ℓ. 35)

Pela leitura do sétimo parágrafo do texto, conclui-se que essa capacidade de ser feliz resulta

- (A) da inexistência de problemas em sua infância.
- (B) de poder viver intensas alegrias com os pequenos presentes da vida.
- (C) de sua cega confiança no futuro.
- (D) do desejo de viver em constante euforia.

5

“De noite eu ia dormir, **mas** o coração se mantinha acordado, em expectativa.” (l. 10-11)

A palavra que pode substituir **mas** no texto, por ter sentido equivalente, é

- (A) porém.
- (B) portanto.
- (C) pois.
- (D) porque.

6

O pronome destacado **NÃO** indica posse na seguinte frase:

- (A) A brisa da madrugada tocava-**lhe** o corpo.
- (B) A expectativa mantinha-**lhe** o coração acordado.
- (C) O sal impregnava-**lhe** as roupas.
- (D) Faltava-**lhe** vontade de voltar para casa.

7

A palavra destacada **NÃO** corresponde a uma preposição em

- (A) “...sair de casa **de** madrugada...” (l. 7-8)
- (B) “...que nos levaria **para** Olinda...” (l. 8-9)
- (C) “...saíamos **em** jejum.” (l. 13-14)
- (D) “Saíamos por uma rua **toda** escura,” (l. 16)

8

A forma do verbo clarear está **INCORRETA** em

- (A) O sol **clareia** o mundo.
- (B) A irmã **clareou** os cabelos.
- (C) **Clariam** a roupa ao sol.
- (D) Abra as janelas para que o dia **clareie** a sala.

9

Segundo o padrão culto da língua, qual das frases abaixo apresenta pontuação correta?

- (A) A menina usava, colete e saia, vistosos.
- (B) Quem quer viajar e conhecer outros lugares?
- (C) A cidade, clareava aos poucos.
- (D) Ela mesma despertou a família; gritando!

10

A frase que se completa corretamente com a palavra **mau** é

- (A) Escolheu um \_\_\_\_\_ momento para brincar.
- (B) Sabia mergulhar mas nadava \_\_\_\_\_.
- (C) \_\_\_\_\_ conseguia respirar de tanta alegria.
- (D) Não havia \_\_\_\_\_ que resistisse a uma temporada de banhos de mar.

## MATEMÁTICA

11

Na loja virtual do IBGE ([www.ibge.gov.br/lojavirtual](http://www.ibge.gov.br/lojavirtual)), é possível adquirir diversos produtos cartográficos. A tabela abaixo apresenta os atlas disponíveis para compra.

| Artigo   | Preço (em R\$) |
|--|----------------|
| Atlas das representações literárias de regiões brasileiras - v.2 - Sertões Brasileiros I | 45,00          |
| Atlas de saneamento (multimídia)   | 10,00          |
| Atlas geográfico escolar - 5ª edição   | 40,00          |
| Atlas geográfico escolar multimídia - 2ª edição  | 15,00          |
| Meu 1º Atlas - encartado com mapa do Brasil e Unidades da Federação - 3ª edição          | 32,00          |

Se a diretora de uma escola decidir comprar um Atlas das representações literárias de regiões brasileiras, quatro exemplares do Atlas geográfico escolar - 5ª edição e dois do Atlas geográfico escolar multimídia - 2ª edição para a biblioteca da escola, quanto vai gastar, em reais?

- (A) 235,00
- (B) 212,00
- (C) 142,00
- (D) 135,00

12

Em Floresta, no interior de Pernambuco, um tonel de 200

litros de água custa R\$4,00. Na região central do Brasil, a água que abastece residências custam  $\frac{1}{4}$  desse valor.

Qual é, em reais, o preço de 100 litros da água que abas-

tece residências na região central do Brasil?

- (A) 2,00
- (B) 1,50
- (C) 1,00
- (D) 0,50

13

No final do verão, uma loja de roupas ofereceu 20% de desconto em todas as peças. Uma pessoa, ao comprar uma camisa de R\$36,00, recebeu, em reais, um desconto de

- (A) 3,60
- (B) 6,20
- (C) 7,20
- (D) 8,60

14

O primeiro censo brasileiro foi realizado em 1872. Na época, o Brasil era uma monarquia e ainda existia escravidão. Foram contadas 9.930.480 pessoas, das quais 1.510.806 foram declaradas escravas. Em 1872, quantas pessoas foram declaradas não escravas no Brasil?

- (A) 8.502.176
- (B) 8.422.514
- (C) 8.420.486
- (D) 8.419.674

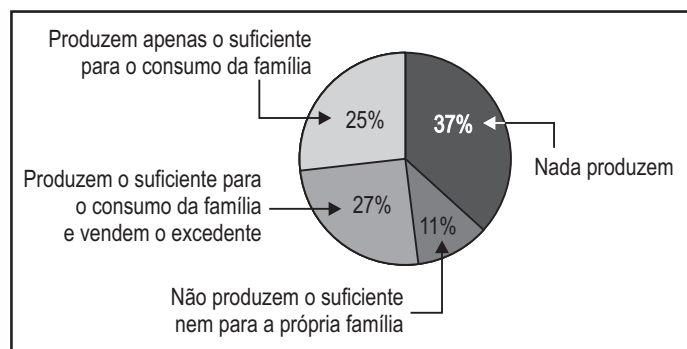
15

Ao pagar três cafezinhos e um sorvete com uma nota de R\$10,00, João recebeu R\$1,20 de troco. Se o sorvete custa R\$1,60 a mais que cada cafezinho, qual é, em reais, o preço de um cafezinho?

- (A) 1,60
- (B) 1,80
- (C) 2,00
- (D) 2,20

16

O resultado de uma pesquisa feita pela Confederação Nacional de Agricultura (CNA) sobre a produtividade de mil famílias em assentamentos é apresentado no gráfico abaixo.



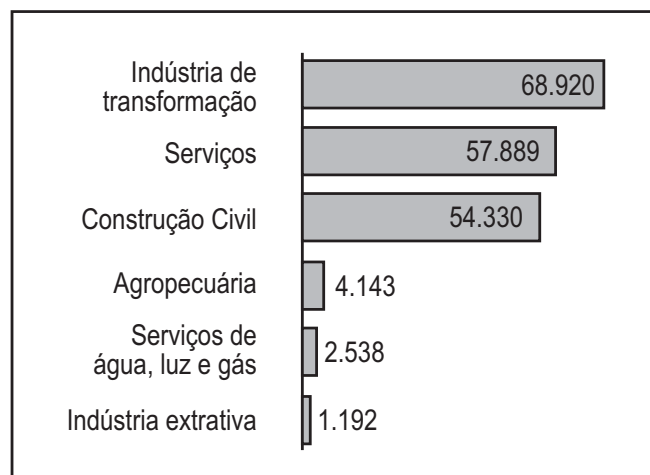
IBOPE/CNA

Quantas, dentre as famílias pesquisadas, produzem, pelo menos, o suficiente para o seu consumo?

- (A) 520
- (B) 420
- (C) 370
- (D) 250

17

O Brasil começou o ano com um forte ritmo de contratações com carteira assinada. O gráfico abaixo apresenta o número de empregos com carteira assinada criados em alguns setores da economia, em janeiro de 2010.



Ministério do Trabalho e Emprego

Quantas vagas com carteira assinada a construção civil ofereceu a mais do que o setor agropecuário, em janeiro de 2010?

- (A) 53.746
- (B) 51.213
- (C) 50.187
- (D) 49.953

18

No primeiro trimestre do ano passado, o vertedouro (canal de segurança que controla o nível de água) de um lago localizado no Parque da Aclamação, na capital paulista, se rompeu. Em 50 minutos, 780.000 litros de água escoaram, deixando o lago praticamente seco. Em média, quantos litros de água escoaram do lago a cada segundo?

- (A) 156
- (B) 180
- (C) 260
- (D) 348

19

Considere dois grupos de agentes censitários, um deles com 66 agentes e o outro, com 72. Os dois grupos serão divididos em equipes de trabalho. Essas equipes deverão ter o mesmo número de agentes, sendo que todos os agentes de cada equipe devem ser originários do mesmo grupo. Desse modo, o número máximo de agentes por equipe será

- (A) 6
- (B) 5
- (C) 4
- (D) 3

20

Ao caminhar 100 m, uma mulher dá, em média, 120 passos. Quantos passos uma mulher dará, em média, ao caminhar 750 m?

- (A) 900
- (B) 750
- (C) 450
- (D) 225

## CONHECIMENTOS GERAIS

21



Le Monde Diplomatique Brasil. Fev. 2010., p. 9

A charge acima enfoca criticamente uma associação entre dois aspectos recentes da realidade haitiana, que são:

- (A) educação e meio ambiente.
- (B) governo e crise ecológica.
- (C) miséria e caos urbano.
- (D) planejamento e segurança pública.

22

Em março de 2010, Tancredo Neves completaria 100 anos de idade. Esse político exerceu cargos de deputado, senador e governador de Minas Gerais, até ser eleito Presidente da República por um colégio eleitoral, em 1985.

No Brasil, a eleição de Tancredo Neves para Presidente da República marcava o fim de um regime político

- (A) civil.
- (B) monárquico.
- (C) religioso.
- (D) militar.

23

No final de 2009, foi realizada, em Copenhague, uma conferência das Nações Unidas, a COP-15, com o objetivo de discutir questões sobre a ecologia planetária. A conferência contou com a participação de presidentes de vários países, como os do Brasil e dos Estados Unidos, apontando propostas para um futuro melhor.

Qual o foco dessa conferência?

- (A) As alterações genéticas.
- (B) As mudanças climáticas.
- (C) As estruturas geológicas.
- (D) A diversidade biológica.

24



IBGE. Censo Demográfico, 1991.

De acordo com o mapa acima, entre os indivíduos mais pobres dos estados do Pará e do Paraná predominam, respectivamente,

- (A) brancos e pardos.
- (B) indígenas e brancos.
- (C) pardos e brancos.
- (D) amarelos e pardos.

25

Nos últimos anos, a matriz energética brasileira vem-se diversificando, sobretudo com a incorporação dos agrocombustíveis, como o etanol.

O principal produto empregado na fabricação desse agrocombustível no Brasil é a(o)

- (A) erva-mate.
- (B) cana-de-açúcar.
- (C) cera de carnaúba.
- (D) coco de babaçu.

26

Na história recente do Brasil, foi realizado um ato político de impedimento do Presidente da República, com forte participação e apoio populares, por meio de uma manifestação de rua, constituída sobretudo por jovens conhecidos como caras-pintadas.

A manifestação popular mencionada refere-se ao impedimento do ex-Presidente da República

- (A) Fernando Collor de Melo.
- (B) Fernando Henrique Cardoso.
- (C) Ernesto Geisel.
- (D) Itamar Franco.

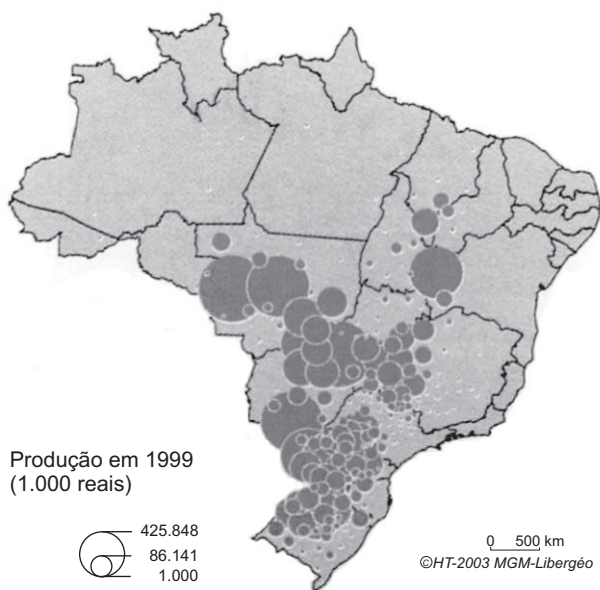
**27**

O cinema brasileiro contou, recentemente, com a produção de dois filmes de grande repercussão e aceitação pelo público e pela crítica especializada: “Tropa de Elite” e “Cidade de Deus”.

Em conjunto, os filmes mencionados enfocam e explicitam a vinculação entre os seguintes aspectos da realidade brasileira:

- (A) violência urbana e segurança pública.
- (B) ecologia urbana e educação pública.
- (C) prática religiosa e assistência social.
- (D) cultura popular e tecnologia social.

**28**



THÉRY, H. e Mello, N. **Atlas do Brasil**. São Paulo: EDUSP, 2008, p.126.

Na agricultura brasileira, destaca-se um tipo de cultivo comercial fortemente voltado para a exportação e que avança em várias partes do território nacional, como se pode observar no mapa acima.

O cultivo agrícola comercial em foco é o de

- (A) arroz.
- (B) café.
- (C) soja.
- (D) cacau.

**29**

Um grupo de quatro países vem-se destacando no mundo contemporâneo. São países com economias emergentes de características semelhantes, conhecidos como BRIC. Compõe esse grupo, além da Índia, da Rússia e do Brasil, a(o)

- (A) Coreia do Norte.
- (B) Canadá.
- (C) Colômbia.
- (D) China.

**30**

Com relação à expectativa de vida dos brasileiros, os recenseamentos do IBGE comprovam que, nos últimos anos, verificou-se

- (A) retrocesso significativo.
- (B) aumento progressivo.
- (C) desaceleração abrupta.
- (D) estagnação relativa.

## CONHECIMENTOS TÉCNICOS

**31**

Sobre o IBGE e o Censo Demográfico, analise as afirmações a seguir.

- I - O IBGE coleta e fornece informações variadas e atuais que permitem conhecer a realidade brasileira.
- II - O IBGE é responsável pelo Censo Demográfico que acontece a cada cinco anos.
- III - O Censo Demográfico, ao fazer um retrato preciso da população brasileira, ajuda as autoridades na tomada de decisões importantes para o país.

Estão corretas as afirmações

- (A) II e III, apenas.
- (B) I, II e III.
- (C) I e III, apenas.
- (D) I e II, apenas.

**32**

Analise as situações a seguir.

- Bela, nascida em 17/07/2010.
- Caio, nascido em 02/08/2010.
- Juca, falecido em 30/07/2010.
- Vida, falecida em 15/08/2010.

Considerando as situações apresentadas e a data de referência do Censo Demográfico 2010, as pessoas que deverão ser recenseadas são

- (A) Caio e Vida.
- (B) Bela e Juca.
- (C) Bela e Caio.
- (D) Bela e Vida.

**33**

Qual das instalações abaixo será considerada domicílio particular improvisado se, na data de referência do Censo Demográfico 2010, esta instalação estiver ocupada por moradores?

- (A) Quarto de hotel.
- (B) Depósito de bebidas.
- (C) Alojamento de estudantes.
- (D) Cômodo de um cortiço.

34

Qual das situações descritas a seguir constitui exemplo da existência de dois domicílios em que há as condições de separação e de independência?

- (A) Quando Deli se formou e começou a trabalhar, saiu da casa da mãe e foi morar em um apartamento no prédio ao lado, já que, agora, pode pagar as suas próprias despesas.
- (B) Nina ficou viúva, não trabalha, é sustentada pelos irmãos e foi morar em um sobrado, no andar superior da casa da irmã, ao qual tem acesso por uma escada externa.
- (C) Jorge e Miguel, irmãos gêmeos, abriram juntos uma oficina onde moram e trabalham.
- (D) Júlio mora em um quarto na casa de seu pai com a mulher e o filho recém-nascido, sendo que Júlio e o pai trabalham e dividem as despesas da casa.

35

Em um dos domicílios entrevistados, o recenseador encontrou Maria, a dona da casa que lá morava há 10 anos com seu filho Carlos, marítimo, que estava embarcado a serviço. Maria contou que era casada com João, mas que este saíra de casa há 2 anos e não dera mais notícias.

Neste domicílio, deverá(ão) ser recenseada(os)

- (A) Maria, somente.
- (B) Maria e João.
- (C) Maria e Carlos.
- (D) Maria, Carlos e João.

36

A respeito do trabalho a ser realizado pelo recenseador, analise as afirmativas a seguir.

- I - O recenseador é peça fundamental para o êxito do Censo Demográfico 2010, pois é ele que vai coletar diretamente as informações junto à população.
- II - O bom recenseador é aquele que vai além dos limites da área que lhe for designada, de modo a realizar o maior número possível de entrevistas.
- III - Sempre que tiver dúvidas ou encontrar problemas, o recenseador deve procurar ajuda e esclarecimento com seus colegas.
- IV - O crachá e o Manual do Recenseador fazem parte do conjunto de materiais indispensáveis para que o recenseador execute bem seu trabalho.

Estão corretas **APENAS** as afirmativas

- (A) II, III e IV.
- (B) II e III.
- (C) I e IV.
- (D) I e II.

37

O Computador de Mão é a principal ferramenta de trabalho do recenseador, que nele encontrará, obrigatoriamente, o

- (A) Registro de endereços, no qual constam as informações referentes aos endereços das unidades visitadas pertencentes ao setor censitário.
- (B) Mapa do Setor, que mostra com cores contrastantes as informações referentes aos domicílios do setor.
- (C) Questionário Básico, a ser adotado em todos os domicílios, para registrar apenas as características dos moradores.
- (D) Questionário da Amostra, a ser preenchido sempre que o recenseador verificar que o domicílio apresenta características especiais que devem ser registradas.

38

Constitui tarefa do recenseador durante a coleta de dados

- (A) visitar os domicílios escolhidos por ele, fazendo o percurso que lhe for mais conveniente.
- (B) comparecer ao posto de coleta ao final de cada jornada de trabalho.
- (C) realizar as entrevistas seguindo as instruções do Manual do Recenseador.
- (D) repassar os dados coletados para o supervisor, quando considerar que há volume suficiente de informações.

39

A realização da entrevista em cada domicílio é um momento de extrema importância, durante o qual o recenseador deve

- (A) criar um clima de cordialidade, falando de assuntos diversos para tornar mais interessante a conversa com o morador.
- (B) agradecer ao morador, garantindo que não voltará a procurá-lo.
- (C) apresentar-se ao morador, contando detalhes sobre sua vida, para que o entrevistado sintam-se encorajado a fazer o mesmo.
- (D) registrar com precisão todas as respostas dadas pelo morador às perguntas do questionário.

40

Jane vai trabalhar como recenseadora em um setor considerado perigoso e resolveu pedir ao namorado que a acompanhe.

A atitude de Jane é

- (A) incorreta, pois o sigilo das informações não será preservado, o que é obrigação do recenseador.
- (B) inadequada, pois, ao participar com ela do trabalho, o rapaz também fará jus a pagamento.
- (C) adequada, pois o rapaz poderá ajudá-la a cuidar do equipamento da pesquisa.
- (D) correta, pois deste modo ela se sentirá mais segura e seu trabalho será bem feito.



**41**

Para evitar o grande gasto de tempo e de recursos que haveria se toda a população tivesse de responder ao questionário completo, o IBGE adota a técnica de

- (A) realização de entrevistas, em que, na maior parte dos domicílios, os moradores respondem a questionários escritos, enquanto, em um número reduzido de domicílios, são realizadas entrevistas mais simples.
- (B) amostragem, na qual alguns domicílios são selecionados para o responsável responder a esse questionário, de forma que suas respostas representem a do conjunto total.
- (C) pesquisa demográfica, na qual os moradores que assim o desejarem recebem um questionário minucioso para ser respondido e, posteriormente, entregue.
- (D) registro de dados, por meio do qual os moradores de domicílios dotados de computador e acesso à Internet devem, necessariamente, enviar seus dados por meio eletrônico.

**42**

Em 2010, o IBGE realizará o Censo Demográfico no Brasil. Considerando o intervalo de tempo entre dois eventos desse tipo de pesquisa, conclui-se que o próximo Censo deverá ser realizado em

- (A) 2020.
- (B) 2018.
- (C) 2016.
- (D) 2014.

**43**

As informações resultantes do Censo Demográfico são fundamentais para que sejam definidas as políticas públicas

- (A) municipais, somente.
- (B) estaduais, somente.
- (C) federais, somente.
- (D) federais, estaduais e municipais.

**44**

Os resultados obtidos por meio do Censo Demográfico são utilizados, entre outros fins, para

- (A) definir a representação política dos estados no Congresso Nacional.
- (B) saber quem está desempregado em cada município.
- (C) determinar o plantão dos médicos nos hospitais.
- (D) controlar quais as categorias de trabalhadores que receberão aumento salarial.

**45**

O Censo Demográfico 2010 mobilizará milhares de pessoas, pois será realizado

- (A) em todos os municípios que fazem parte da amostra.
- (B) em todo o Território Nacional.
- (C) na maioria das cidades brasileiras.
- (D) nas duas maiores regiões do país.

**46**

Antes de coletar os dados para preenchimento dos questionários do Censo Demográfico 2010, o recenseador deve

- (A) receber e preparar o material de trabalho diário a ser utilizado.
- (B) definir e entregar ao supervisor o Mapa do Setor.
- (C) definir a sua área de trabalho.
- (D) comparecer ao treinamento diário no horário que lhe for mais conveniente.

**47**

Ao chegar para realizar uma entrevista, o recenseador não encontra a pessoa responsável pelo domicílio. Nesse caso, ele

- (A) coleta as informações com um vizinho, deixando em branco o que este não souber responder.
- (B) deixa este domicílio sem recenseamento.
- (C) espera o morador responsável chegar, pois só este pode responder ao questionário.
- (D) entrevista outro morador que conheça bem as características do domicílio e dos moradores.

**48**

Ricardo resolveu tentar a vida em outro estado, longe de sua família, mas com maior chance de conseguir um emprego e está morando em uma casa de cômodos.

Para o Censo Demográfico 2010, Ricardo mora em domicílio

- (A) indefinido.
- (B) coletivo.
- (C) particular improvisado.
- (D) particular permanente.

**49**

O recenseador deve ter contato permanente com seu supervisor porque este

- (A) o encaminhará a um local no qual ele poderá obter as informações para realizar seu trabalho.
- (B) o encaminhará a um posto de coleta no qual poderá receber o material de trabalho diário.
- (C) lhe prestará assistência permanente durante a coleta de dados.
- (D) o encaminhará a um técnico específico, de acordo com a necessidade de esclarecimento quanto à dúvida apresentada.

**50**

Ao abrir a porta de sua casa para a visita do recenseador, o morador poderá identificá-lo pelo uso do

- (A) boné com logomarca.
- (B) crachá fornecido pelo IBGE.
- (C) computador portátil.
- (D) uniforme de trabalho.